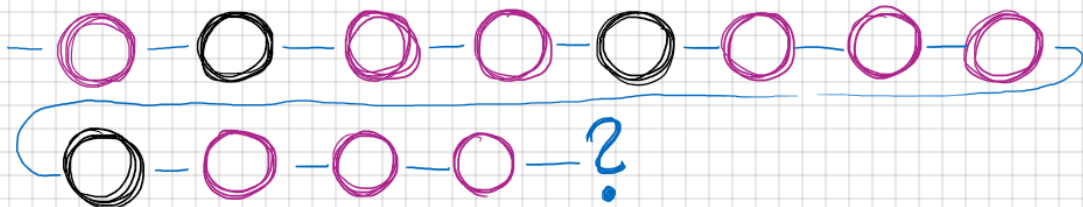


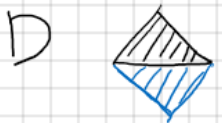
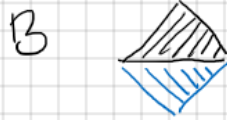

# Vuolun teknologiaalinjan pääsykokeen esimerkkitehtäviä



MIKÄ KUVIO ON SEURAAVA :



Mikä kuvio ei kuulu joukkoon?

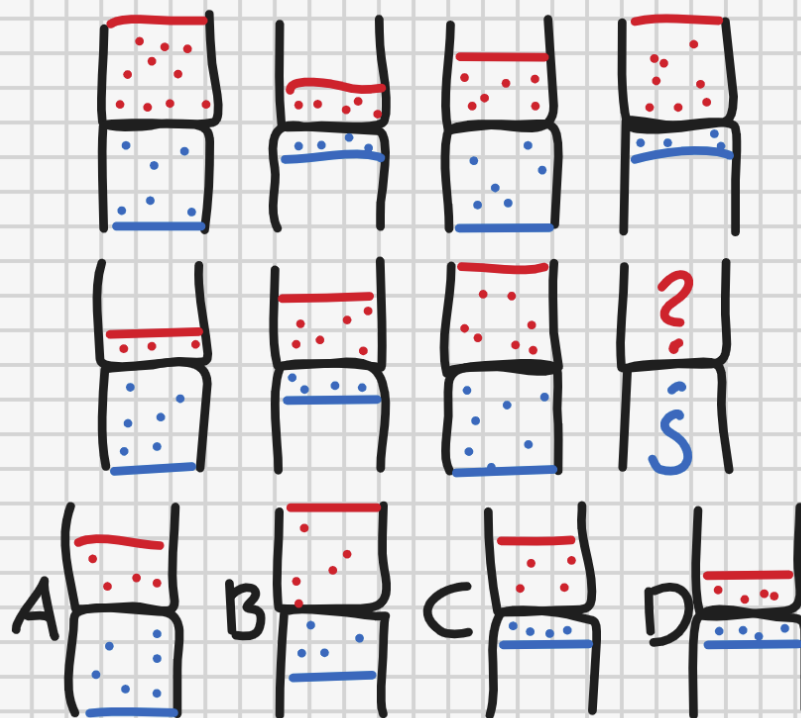


Mikä tulee seuraavaksi?

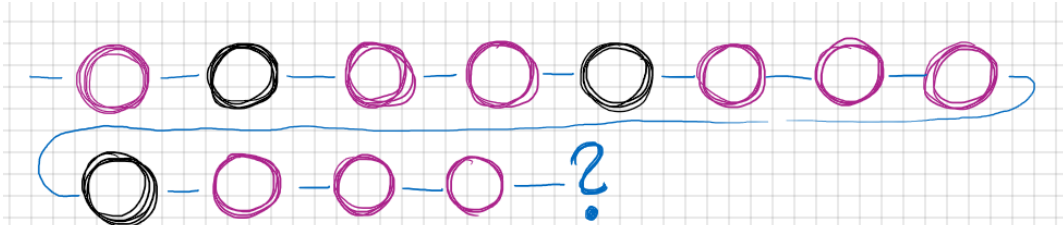
Tamburiini  
Onkologi  
Ratkaista  
Siekailematon  
Telaketju  
Alkuaine  
Irtaimisto  
?

- A) Poikkeus    B) Omena    C) Teräs  
D) Raikas    E) Perjantai    F) Auto

Valitse sopiva kuva  
kysymysmerkkien tilalle



## Ratkaisut

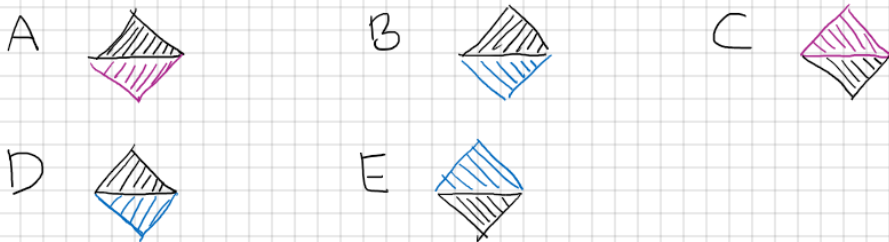


MIKÄ KUVIO ON SEURAAVA :



Vastaus: C, koska violettien  
ympyröiden määrä kasvaa  $1 \rightarrow 2 \rightarrow 3 \rightarrow 4$

Mikä kuvio ei kuulu joukkoon?



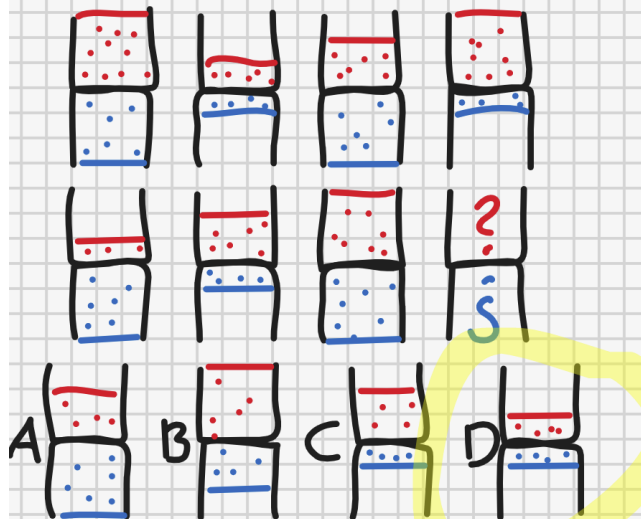
Vastaus: B, koska viivat kääntyvät eri  
suuntiin. PARIT ovat A-C ja D-E

Mikä tulee seuraavaksi?

Tamburiini  
Onkologi  
Ratkaista  
Siekailematon  
Telaketju  
Alkuaine  
Irtaimisto  
?

- A) Poikkeus    B) Omena    C) Teräs  
D) Raikas    E) Perjantai    F) Auto

Valitse sopiva kuva  
kysymysmerkkien tilalle



Punainen:

vähän --> puolet --> täysi

Sininen: täysi --> vähän -->

täysi --> vähän